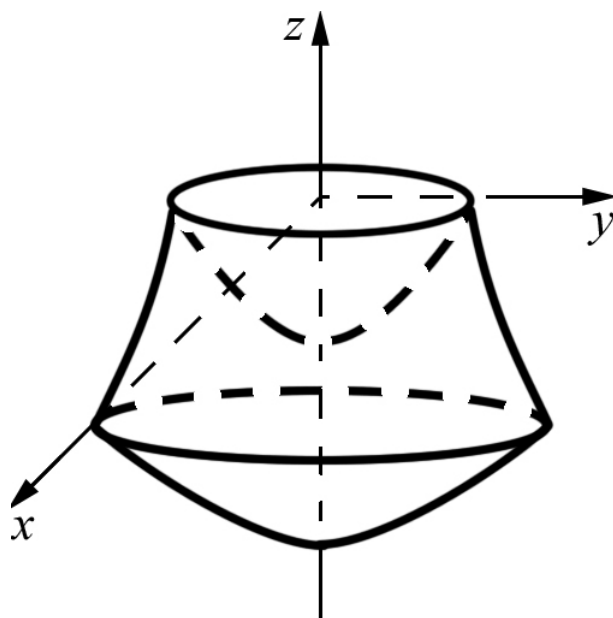


Типовой расчет по высшей математике

Аналитическая геометрия

1 модуль

Учебно-методическое пособие



Санкт-Петербург

2012

МИНИСТЕРСТВО ОБРАЗОВАНИЯ И НАУКИ РОССИЙСКОЙ ФЕДЕРАЦИИ

САНКТ-ПЕТЕРБУРГСКИЙ НАЦИОНАЛЬНЫЙ ИССЛЕДОВАТЕЛЬСКИЙ УНИВЕРСИТЕТ

ИНФОРМАЦИОННЫХ ТЕХНОЛОГИЙ, МЕХАНИКИ И ОПТИКИ

Гортинская Л.В., Панкратова Т.Ф., Понятовский В.В.,
Ратафьева Л.С., Рыжков А.Е., Трифанов А.И.

Типовой расчет по высшей математике

Аналитическая геометрия

1 модуль

Учебно-методическое пособие



Санкт-Петербург
2012

Гортинская Л.В., Панкратова Т.Ф., Понятовский В.В., Ратафьева Л.С., Рыжков А.Е., Трифанов А.И. Типовой расчет „Аналитическая геометрия“. 1 модуль. Учебно-методическое пособие. -СПб: НИУ ИТМО, 2012. -50 с.

Предлагаемое пособие предназначено для студентов первого курса специальности 010400.62 „Прикладная математика и информатика“

Рекомендовано к печати Ученым советом естественнонаучного факультета, 18.09.2012, протокол №9.



В 2009 году Университет стал победителем многоэтапного конкурса, в результате которого определены 12 ведущих университетов России, которым присвоена категория "Национальный исследовательский университет". Министерством образования и науки Российской Федерации была утверждена Программа развития государственного образовательного учреждения высшего профессионального образования "Санкт-Петербургский государственный университет информационных технологий, механики и оптики" на 2009-2018 годы.

© Санкт-Петербургский национальный исследовательский университет информационных технологий, механики и оптики, 2012

© Гортинская Л.В., Панкратова Т.Ф., Понятовский В.В., Ратафьева Л.С., Рыжков А.Е., Трифанов А.И. 2012

Содержание

Общие рекомендации	4
Задание 1. Определители и их свойства	5
Пример выполнения задания 1	5
Варианты задания 1	8
Задание 2. Системы Крамера	11
Пример выполнения задания 2	11
Варианты задания 2	13
Задание 3. Векторная алгебра	16
Пример выполнения задания 3	16
Варианты задания 3	17
Задание 4. Аналитическая геометрия на плоскости	19
Пример выполнения задания 4	19
Варианты задания 4	21
Задание 5. Аналитическая геометрия в пространстве	25
Пример выполнения задания 5	25
Варианты задания 5	26
Задание 6. Канонические уравнения кривых на плоскости	32
Пример выполнения задания 6	32
Варианты задания 6	33
Задание 7. Каноническая форма кривых второго порядка	37
Пример выполнения задания 7	37
Варианты задания 7	39
Задание 8. Поверхности второго порядка	41
Пример выполнения задания 8	41
Варианты задания 8	42

Общие рекомендации

Типовой расчет по математике за первый модуль включает в себя задачи по темам: „Определители“, „Векторная алгебра“, „Аналитическая геометрия“ и „Линейные системы уравнений“.

Каждый студент обязан выполнить восемь заданий, одно задание согласно своему варианту из каждой темы. Номера задач указываются преподавателем, ведущим практические занятия в группе.

Каждый типовой расчет следует выполнить в отдельной тетради, перед выполнением каждого задания написать полное условие, чертежи и рисунки необходимо исполнить аккуратно, снабдив их необходимыми подписями и обозначениями. При решении задач требуется делать достаточно подробные пояснения.

Выполненная работа сдается на проверку преподавателю, который в случае необходимости может потребовать от студента устные пояснения к выполненной работе, то есть защитить типовой расчет. К типовому расчету даются краткие методические указания, принимая во внимание которые и пользуясь указанной литературой, студент может приступить к выполнению типового расчета, не дожидаясь, когда необходимый материал будет изложен на лекции.

Задание 1. Определители и их свойства

Пример выполнения задания 1

Задача. Вычислить определитель тремя способами: разложением по второй строке, разложением по третьему столбцу и приведением к определителю диагональной матрицы методом Гаусса:

$$\begin{vmatrix} 3 & 5 & 7 & 2 \\ 1 & 2 & 3 & 4 \\ -2 & -3 & 3 & 2 \\ 1 & 3 & 5 & 4 \end{vmatrix}$$

Решение. а) Разложим определитель по второй строке:

$$\begin{aligned} & \begin{vmatrix} 3 & 5 & 7 & 2 \\ 1 & 2 & 3 & 4 \\ -2 & -3 & 3 & 2 \\ 1 & 3 & 5 & 4 \end{vmatrix} = \\ & = 1 \cdot (-1)^{2+1} \cdot \begin{vmatrix} 5 & 7 & 2 \\ -3 & 3 & 2 \\ 3 & 5 & 4 \end{vmatrix} + 2 \cdot (-1)^{2+2} \cdot \begin{vmatrix} 3 & 7 & 2 \\ -2 & 3 & 2 \\ 1 & 5 & 4 \end{vmatrix} + \\ & + 3 \cdot (-1)^{2+3} \cdot \begin{vmatrix} 3 & 5 & 2 \\ -2 & -3 & 2 \\ 1 & 3 & 4 \end{vmatrix} + 4 \cdot (-1)^{2+4} \cdot \begin{vmatrix} 3 & 5 & 7 \\ -2 & -3 & 3 \\ 1 & 3 & 5 \end{vmatrix} = \\ & = -1 \cdot \left(5 \cdot \begin{vmatrix} 3 & 2 \\ 5 & 4 \end{vmatrix} - 7 \cdot \begin{vmatrix} -3 & 2 \\ 3 & 4 \end{vmatrix} + 2 \cdot \begin{vmatrix} -3 & 3 \\ 3 & 5 \end{vmatrix} \right) + \\ & + 2 \cdot \left(3 \cdot \begin{vmatrix} 3 & 2 \\ 5 & 4 \end{vmatrix} - 7 \cdot \begin{vmatrix} -2 & 2 \\ 1 & 4 \end{vmatrix} + 2 \cdot \begin{vmatrix} -2 & 3 \\ 1 & 5 \end{vmatrix} \right) - \\ & - 3 \cdot \left(3 \cdot \begin{vmatrix} -3 & 2 \\ 3 & 4 \end{vmatrix} - 5 \cdot \begin{vmatrix} -2 & 2 \\ 1 & 4 \end{vmatrix} + 2 \cdot \begin{vmatrix} -2 & -3 \\ 1 & 3 \end{vmatrix} \right) + \end{aligned}$$

$$\begin{aligned}
& +4 \cdot \left(3 \cdot \begin{vmatrix} -3 & 3 \\ 3 & 5 \end{vmatrix} - 5 \cdot \begin{vmatrix} -2 & 3 \\ 1 & 5 \end{vmatrix} + 7 \cdot \begin{vmatrix} -2 & -3 \\ 1 & 3 \end{vmatrix} \right) = \\
& = -(60 - 50 + 84 + 42 - 30 - 18) + \\
& + 2 \cdot (36 - 30 + 56 + 14 - 20 - 6) - \\
& - 3 \cdot (-36 - 18 + 40 + 10 - 12 + 6) + \\
& + 4 \cdot (-45 - 27 + 50 + 15 - 42 + 21) = \\
& = -88 + 2 \cdot 50 + 3 \cdot 10 - 4 \cdot 28 = -70.
\end{aligned}$$

б) Разложим определитель по третьему столбцу:

$$\begin{aligned}
& \begin{vmatrix} 3 & 5 & 7 & 2 \\ 1 & 2 & 3 & 4 \\ -2 & -3 & 3 & 2 \\ 1 & 3 & 5 & 4 \end{vmatrix} = \\
& = 7 \cdot (-1)^{1+3} \cdot \begin{vmatrix} 1 & 2 & 4 \\ -2 & -3 & 2 \\ 1 & 3 & 4 \end{vmatrix} + 3 \cdot (-1)^{2+3} \cdot \begin{vmatrix} 3 & 5 & 2 \\ -2 & -3 & 2 \\ 1 & 3 & 4 \end{vmatrix} + \\
& + 3 \cdot (-1)^{3+3} \cdot \begin{vmatrix} 3 & 5 & 2 \\ 1 & 2 & 4 \\ 1 & 3 & 4 \end{vmatrix} + 5 \cdot (-1)^{4+3} \cdot \begin{vmatrix} 3 & 5 & 2 \\ 1 & 2 & 4 \\ -2 & -3 & 2 \end{vmatrix} = \\
& = 7 \left(1 \cdot \begin{vmatrix} -3 & 2 \\ 3 & 4 \end{vmatrix} - 2 \cdot \begin{vmatrix} -2 & 2 \\ 1 & 4 \end{vmatrix} + 4 \cdot \begin{vmatrix} -2 & -3 \\ 1 & 3 \end{vmatrix} \right) - \\
& - 3 \cdot \left(3 \cdot \begin{vmatrix} -3 & 2 \\ 3 & 4 \end{vmatrix} - 5 \cdot \begin{vmatrix} -2 & 2 \\ 1 & 4 \end{vmatrix} + 2 \cdot \begin{vmatrix} -2 & -3 \\ 1 & 3 \end{vmatrix} \right) + \\
& + 3 \cdot \left(3 \cdot \begin{vmatrix} 2 & 4 \\ 3 & 4 \end{vmatrix} - 5 \cdot \begin{vmatrix} 1 & 4 \\ 2 & 4 \end{vmatrix} + 2 \cdot \begin{vmatrix} 1 & 2 \\ 1 & 3 \end{vmatrix} \right) - \\
& - 5 \cdot \left(3 \cdot \begin{vmatrix} 2 & 4 \\ -3 & 2 \end{vmatrix} - 5 \cdot \begin{vmatrix} 1 & 4 \\ -2 & 2 \end{vmatrix} + 2 \cdot \begin{vmatrix} 1 & 2 \\ -2 & -3 \end{vmatrix} \right) =
\end{aligned}$$

$$\begin{aligned}
 &= 7 \cdot (-12 - 6 + 16 + 4 - 24 + 12) - \\
 &- 3 \cdot (-36 - 18 + 40 + 10 - 12 + 6) + \\
 &+ 3 \cdot (24 - 36 - 20 + 20 + 6 - 4) - \\
 &- 5 \cdot (12 + 36 - 10 - 40 - 6 + 8) = \\
 &= -7 \cdot 10 + 3 \cdot 10 - 3 \cdot 10 - 5 \cdot 0 = -70.
 \end{aligned}$$

в) С помощью элементарных преобразований приведем матрицу к треугольному виду:

Прибавим ко второму столбцу первый столбец, умноженный на (-3) , прибавим к третьему столбцу первый столбец, умноженный на (-5) :

$$\begin{vmatrix} 3 & 5 & 7 & 2 \\ 1 & 2 & 3 & 4 \\ -2 & -3 & 3 & 2 \\ 1 & 3 & 5 & 4 \end{vmatrix} = \begin{vmatrix} 3 & -4 & -8 & 2 \\ 1 & -1 & -2 & 4 \\ -2 & 3 & 13 & 2 \\ 1 & 0 & 0 & 4 \end{vmatrix}.$$

Умножим четвертую строку на (-1) и прибавим ко второй, и умножим четвертую строку на 2 и прибавим к третьей, получим:

$$\begin{vmatrix} 3 & -4 & -8 & 2 \\ 1 & -1 & -2 & 4 \\ -2 & 3 & 13 & 2 \\ 1 & 0 & 0 & 4 \end{vmatrix} = \begin{vmatrix} 3 & -4 & -8 & 2 \\ 0 & -1 & -2 & 0 \\ 0 & 3 & 13 & 10 \\ 1 & 0 & 0 & 4 \end{vmatrix}.$$

Умножим вторую строку на (-3) и прибавим к третьей строке, умножим вторую строку на (-4) и прибавим к первой строке:

$$\begin{vmatrix} 3 & -4 & -8 & 2 \\ 0 & -1 & -2 & 0 \\ 0 & 3 & 13 & 10 \\ 1 & 0 & 0 & 4 \end{vmatrix} = \begin{vmatrix} 3 & 0 & 0 & 2 \\ 0 & -1 & -2 & 0 \\ 0 & 0 & 7 & 10 \\ 1 & 0 & 0 & 4 \end{vmatrix}.$$

Умножим первую строку на $(-1/3)$ и прибавим к четвертой строке:

$$\begin{vmatrix} 3 & 0 & 0 & 2 \\ 0 & -1 & -2 & 0 \\ 0 & 0 & 7 & 10 \\ 1 & 0 & 0 & 4 \end{vmatrix} = \begin{vmatrix} 3 & 0 & 0 & 2 \\ 0 & -1 & -2 & 0 \\ 0 & 0 & 7 & 10 \\ 0 & 0 & 0 & \frac{10}{3} \end{vmatrix}.$$

Определитель полученной треугольной матрицы равен произведению ее диагональных элементов:

$$\begin{vmatrix} 3 & 5 & 7 & 2 \\ 1 & 2 & 3 & 4 \\ -2 & -3 & 3 & 2 \\ 1 & 3 & 5 & 4 \end{vmatrix} = \begin{vmatrix} 3 & 0 & 0 & 2 \\ 0 & -1 & -2 & 0 \\ 0 & 0 & 7 & 10 \\ 0 & 0 & 0 & \frac{10}{3} \end{vmatrix} = 3 \cdot (-1) \cdot 7 \cdot \frac{10}{3} = -70.$$

Варианты задания 1

Вычислить определитель тремя способами: разложением по второй строке, разложением по третьему столбцу и приведением к определителю диагональной матрицы методом Гаусса.

$$1. \begin{vmatrix} 1 & 1 & 1 & 3 \\ 1 & 2 & 3 & 4 \\ 1 & 3 & 6 & 10 \\ 1 & 4 & 10 & 20 \end{vmatrix}; \quad 3. \begin{vmatrix} 5 & -7 & 2 & -6 \\ 3 & 1 & 5 & -8 \\ 2 & -1 & -1 & 3 \\ 1 & 4 & 2 & 2 \end{vmatrix}; \quad 5. \begin{vmatrix} 5 & 6 & 7 & 6 \\ 2 & 4 & 8 & 5 \\ 3 & 5 & 5 & 4 \\ -3 & 1 & 5 & 4 \end{vmatrix};$$

$$2. \begin{vmatrix} 3 & 5 & 5 & 3 \\ -5 & 8 & 7 & 4 \\ 2 & -9 & -4 & -5 \\ -3 & 4 & 3 & 2 \end{vmatrix}; \quad 4. \begin{vmatrix} 6 & 5 & 3 & 8 \\ 4 & 6 & -1 & 1 \\ 4 & 2 & 1 & 7 \\ 4 & 2 & -3 & 3 \end{vmatrix}; \quad 6. \begin{vmatrix} 2 & 7 & 4 & 2 \\ 1 & 2 & 1 & 1 \\ 4 & 5 & 6 & 7 \\ 8 & 9 & 1 & 5 \end{vmatrix};$$

$$7. \begin{vmatrix} -3 & 1 & -1 & -2 \\ 5 & 1 & 3 & 5 \\ 2 & 1 & 3 & 6 \\ 1 & 4 & 5 & 3 \end{vmatrix};$$

$$13. \begin{vmatrix} -1 & 2 & 4 & -2 \\ 3 & 1 & 2 & 1 \\ 4 & 3 & 2 & -3 \\ 3 & 1 & 4 & 2 \end{vmatrix};$$

$$19. \begin{vmatrix} 7 & 6 & 4 & -1 \\ 2 & 3 & 1 & 5 \\ -6 & 4 & 3 & 1 \\ 6 & 5 & -1 & 4 \end{vmatrix};$$

$$8. \begin{vmatrix} 5 & 1 & 1 & 1 \\ 6 & 2 & 3 & 3 \\ 8 & 5 & 6 & 6 \\ 11 & 9 & 9 & 8 \end{vmatrix};$$

$$14. \begin{vmatrix} 2 & -3 & 1 & 4 \\ 4 & -2 & 2 & 2 \\ 6 & 1 & 8 & 9 \\ 10 & 4 & 6 & 2 \end{vmatrix};$$

$$20. \begin{vmatrix} 2 & -3 & 3 & -2 \\ -8 & 5 & 2 & 0 \\ 7 & -3 & 11 & 3 \\ -5 & 4 & 7 & 2 \end{vmatrix};$$

$$9. \begin{vmatrix} -8 & 7 & 4 & -5 \\ 6 & -5 & -3 & 4 \\ 5 & -7 & -5 & 3 \\ -8 & 5 & 3 & -4 \end{vmatrix};$$

$$15. \begin{vmatrix} 5 & 6 & 7 & 8 \\ 1 & 2 & 3 & 4 \\ -1 & -3 & 5 & -7 \\ 1 & 2 & 3 & 3 \end{vmatrix};$$

$$21. \begin{vmatrix} 5 & 8 & 4 & 2 \\ 13 & -1 & 3 & 2 \\ 10 & 5 & -2 & 4 \\ -4 & 3 & 6 & -1 \end{vmatrix};$$

$$10. \begin{vmatrix} -2 & 1 & -3 & 2 \\ -5 & 4 & 2 & 1 \\ 2 & 2 & -1 & 3 \\ 5 & 6 & 7 & 1 \end{vmatrix};$$

$$16. \begin{vmatrix} -4 & 2 & -3 & 3 \\ 1 & 8 & 12 & 4 \\ 8 & 4 & 7 & 1 \\ 4 & 2 & 2 & 1 \end{vmatrix};$$

$$22. \begin{vmatrix} 5 & 4 & -3 & 1 \\ 3 & -5 & 6 & 8 \\ 2 & -12 & 3 & -4 \\ 4 & 3 & 4 & 11 \end{vmatrix};$$

$$11. \begin{vmatrix} 1 & -9 & 4 & 8 \\ 3 & 1 & -1 & 2 \\ 6 & 4 & 2 & 10 \\ -2 & 1 & 3 & 8 \end{vmatrix};$$

$$17. \begin{vmatrix} 3 & 4 & 1 & 2 \\ 5 & 1 & 2 & 3 \\ 3 & 1 & 1 & 2 \\ 5 & 1 & 2 & 1 \end{vmatrix};$$

$$23. \begin{vmatrix} 3 & 8 & 7 & 2 \\ 11 & -15 & 3 & 4 \\ 2 & 10 & 2 & -1 \\ 7 & 4 & 2 & 0 \end{vmatrix};$$

$$12. \begin{vmatrix} 3 & 2 & 2 & 8 \\ 1 & 5 & 4 & -9 \\ 2 & 4 & 6 & -9 \\ 1 & 2 & 3 & -4 \end{vmatrix};$$

$$18. \begin{vmatrix} 1 & -2 & 3 & 9 \\ 2 & 4 & -6 & -2 \\ 3 & 6 & -9 & 1 \\ 7 & -2 & 5 & 1 \end{vmatrix};$$

$$24. \begin{vmatrix} 2 & 1 & -4 & -1 \\ 10 & -8 & -3 & 6 \\ -11 & 14 & 8 & -1 \\ 3 & 2 & 3 & 5 \end{vmatrix};$$

$$25. \begin{vmatrix} -3 & 4 & 2 & -1 \\ 6 & -1 & -2 & 5 \\ 4 & -8 & -5 & 2 \\ 3 & 2 & 4 & -1 \end{vmatrix}; \quad 27. \begin{vmatrix} 9 & 1 & -2 & 8 \\ -2 & 5 & 7 & -3 \\ 1 & 5 & -1 & 11 \\ -4 & 7 & 1 & 7 \end{vmatrix}; \quad 29. \begin{vmatrix} -2 & 4 & 7 & 4 \\ 2 & -1 & 11 & -2 \\ 8 & 5 & 2 & 7 \\ 5 & -1 & 3 & -1 \end{vmatrix};$$

$$26. \begin{vmatrix} 7 & 5 & 4 & 8 \\ 2 & -11 & 13 & -1 \\ -3 & 4 & -5 & 1 \\ 9 & 2 & 3 & 4 \end{vmatrix}; \quad 28. \begin{vmatrix} 3 & 3 & 2 & -1 \\ -4 & 7 & 9 & 7 \\ 2 & 6 & 4 & 1 \\ -3 & 4 & -9 & 8 \end{vmatrix}; \quad 30. \begin{vmatrix} 7 & 5 & 2 & 3 \\ 1 & 2 & -4 & 8 \\ 11 & 4 & 9 & -3 \\ 2 & 5 & -4 & 2 \end{vmatrix};$$

Задание 2. Системы Крамера

Пример выполнения задания 2

Задача. Решить систему уравнений двумя способами: методом Крамера и методом Гаусса. Выполнить проверку.

$$\begin{cases} 3x + 2y + z = 5, \\ 2x + 3y + z = 1, \\ 2x + y + 3z = 11. \end{cases}$$

Решение. а) Найдем решение методом Крамера. Найдем следующие определители:

$$\begin{aligned} \Delta &= \begin{vmatrix} 3 & 2 & 1 \\ 2 & 3 & 1 \\ 2 & 1 & 3 \end{vmatrix} = 3 \cdot \begin{vmatrix} 3 & 1 \\ 1 & 3 \end{vmatrix} - 2 \cdot \begin{vmatrix} 2 & 1 \\ 2 & 3 \end{vmatrix} + \begin{vmatrix} 2 & 3 \\ 2 & 1 \end{vmatrix} = \\ &= 3(9 - 1) - 2(6 - 2) + (2 - 6) = 12, \end{aligned}$$

$$\begin{aligned} \Delta_1 &= \begin{vmatrix} 5 & 2 & 1 \\ 1 & 3 & 1 \\ 11 & 1 & 3 \end{vmatrix} = 5 \cdot \begin{vmatrix} 3 & 1 \\ 1 & 3 \end{vmatrix} - 2 \cdot \begin{vmatrix} 1 & 1 \\ 11 & 3 \end{vmatrix} + \begin{vmatrix} 1 & 3 \\ 11 & 1 \end{vmatrix} = \\ &= 5(9 - 1) - 2(3 - 11) + (1 - 33) = 24, \end{aligned}$$

$$\begin{aligned} \Delta_2 &= \begin{vmatrix} 3 & 5 & 1 \\ 2 & 1 & 1 \\ 2 & 11 & 3 \end{vmatrix} = 3 \cdot \begin{vmatrix} 1 & 1 \\ 11 & 3 \end{vmatrix} - 5 \cdot \begin{vmatrix} 2 & 1 \\ 2 & 3 \end{vmatrix} + \begin{vmatrix} 2 & 1 \\ 2 & 11 \end{vmatrix} = \\ &= 3(3 - 1) - 5(6 - 2) + (22 - 2) = -24, \end{aligned}$$

$$\begin{aligned} \Delta_3 &= \begin{vmatrix} 3 & 2 & 5 \\ 2 & 3 & 1 \\ 2 & 1 & 11 \end{vmatrix} = 3 \cdot \begin{vmatrix} 3 & 1 \\ 1 & 11 \end{vmatrix} - 2 \cdot \begin{vmatrix} 2 & 1 \\ 2 & 11 \end{vmatrix} + 5 \cdot \begin{vmatrix} 2 & 3 \\ 2 & 1 \end{vmatrix} = \\ &= 3(33 - 1) - 2(22 - 2) + 5(2 - 6) = 36. \end{aligned}$$

Найдем неизвестные:

$$x = \frac{\Delta_1}{\Delta} = 2, \quad y = \frac{\Delta_2}{\Delta} = -2, \quad z = \frac{\Delta_3}{\Delta} = 3.$$

б) Решим систему методом Гаусса. Построим расширенную матрицу системы и элементарными преобразованиями приведем ее к диагональной. Схема вычислений аналогична схеме вычисления определителя посредством приведения его к треугольному виду (см. задачу 1в).

Вычтем из первой строки вторую:

$$\left(\begin{array}{ccc|c} 3 & 2 & 1 & 5 \\ 2 & 3 & 1 & 1 \\ 2 & 1 & 3 & 11 \end{array} \right) \sim \left(\begin{array}{ccc|c} 1 & -1 & 0 & 4 \\ 2 & 3 & 1 & 1 \\ 2 & 1 & 3 & 11 \end{array} \right)$$

Прибавим ко второй и третьей строкам первую строку, умноженную на (-2) :

$$\left(\begin{array}{ccc|c} 1 & -1 & 0 & 4 \\ 2 & 3 & 1 & 1 \\ 2 & 1 & 3 & 11 \end{array} \right) \sim \left(\begin{array}{ccc|c} 1 & -1 & 0 & 4 \\ 0 & 5 & 1 & -7 \\ 0 & 3 & 3 & 3 \end{array} \right)$$

Разделим третью строку на 3 и переставим вторую и третью строки:

$$\left(\begin{array}{ccc|c} 1 & -1 & 0 & 4 \\ 0 & 5 & 1 & -7 \\ 0 & 3 & 3 & 3 \end{array} \right) \sim \left(\begin{array}{ccc|c} 1 & -1 & 0 & 4 \\ 0 & 1 & 1 & 1 \\ 0 & 5 & 1 & -7 \end{array} \right)$$

Прибавим к третьей строке вторую, умноженную на (-5) , а затем разделим третью строку на (-4) :

$$\left(\begin{array}{ccc|c} 1 & -1 & 0 & 4 \\ 0 & 1 & 1 & 1 \\ 0 & 5 & 1 & -7 \end{array} \right) \sim \left(\begin{array}{ccc|c} 1 & -1 & 0 & 4 \\ 0 & 1 & 1 & 1 \\ 0 & 0 & 1 & 3 \end{array} \right)$$

Вычтем из второй строки третью, а затем прибавим вторую строку к

первой:

$$\left(\begin{array}{ccc|c} 1 & -1 & 0 & 4 \\ 0 & 1 & 1 & 1 \\ 0 & 0 & 1 & 3 \end{array} \right) \sim \left(\begin{array}{ccc|c} 1 & 0 & 0 & 2 \\ 0 & 1 & 0 & -2 \\ 0 & 0 & 1 & 3 \end{array} \right)$$

В результате, получим решение: $x = 2$, $y = -2$, $z = 3$.

Проверка:

$$3 \cdot 2 + 2 \cdot (-2) + 3 = 6 - 4 + 3 = 5,$$

$$2 \cdot 2 + 3 \cdot (-2) + 3 = 4 - 6 + 3 = 1,$$

$$2 \cdot 2 + (-2) + 3 \cdot 3 = 4 - 2 + 9 = 11.$$

Варианты задания 2

Решить систему уравнений двумя способами: методом Гаусса и методом Крамера.

$$1. \begin{cases} 3x - 2y - 3z = 0 \\ x + 5y + 3z = 1 \\ 2x - 3y - 4z = 3 \end{cases}$$

$$4. \begin{cases} x - 2y + 3z = 6 \\ 2x - y - z = 3 \\ 3x - 4y + z = 2 \end{cases} ;$$

$$2. \begin{cases} 2x + 2y - 3z = 1 \\ x - 5y + 2z = -15 \\ 2x - y - 7z = -1 \end{cases}$$

$$5. \begin{cases} 3x + 3y - 2z = -3 \\ x + 3y + 2z = 2 \\ 2x + 2y + z = -1 \end{cases} ;$$

$$3. \begin{cases} 2x + y + 4z = -5 \\ x + 3y - 6z = 2 \\ 3x - 2y + 2z = 9 \end{cases} ;$$

$$6. \begin{cases} 2x + y + 3z = 2 \\ x + 3y + 4z = 2 \\ 2x + 3y + z = -1 \end{cases} ;$$

$$7. \begin{cases} 3x + 2y - z = 1 \\ x - 3y - 2z = 0 ; \\ 2x + y + 3z = 0 \end{cases}$$

$$15. \begin{cases} 5x + 3y + z = 4 \\ 2x - 5y + 2z = 11 ; \\ x + 2y - 3z = -7 \end{cases}$$

$$8. \begin{cases} 5x + 2y - 2z = -3 \\ 3x - y + 4z = 13 ; \\ x + 3y + 5z = 5 \end{cases}$$

$$16. \begin{cases} 3x + 2y - z = 7 \\ x - 3y + 2z = -2 ; \\ 2x + y - z = 1 \end{cases}$$

$$9. \begin{cases} 4x + y + 2z = -9 \\ 5x + 3y + 5z = -12 ; \\ 8x + 3y + 7z = -20 \end{cases}$$

$$17. \begin{cases} 4x + 3y - 5z = 1 \\ 2x - 5y + 2z = 7 ; \\ 7x - 12y + 3z = 19 \end{cases}$$

$$10. \begin{cases} 2x - y - z = 4 \\ 3x + 4y - 2z = 11 ; \\ 3x - 2y + 4z = 11 \end{cases}$$

$$18. \begin{cases} x - y + 2z = 2 \\ 2x + 3y + 7z = 22 ; \\ 4x + 3y - 10z = 11 \end{cases}$$

$$11. \begin{cases} x - 2y - 3z = -1 \\ 2x - 5y - 4z = 1 ; \\ x + 3y - 4z = 2 \end{cases}$$

$$19. \begin{cases} 7x + 2y + 3z = 15 \\ 5x - 3y + 2z = 15 ; \\ 10x - 11y + 5z = 36 \end{cases}$$

$$12. \begin{cases} x + 4y + 3z = 1 \\ 2x + 3y + 2z = -2 ; \\ 3x + y + z = -3 \end{cases}$$

$$20. \begin{cases} 5x + y + 2z = 9 \\ 3x + 4y + 7z = 18 ; \\ 8x + y + z = 11 \end{cases}$$

$$13. \begin{cases} x - 2y - 3z = -1 \\ 2x - 5y - 4z = 1 ; \\ x + 3y - 4z = 2 \end{cases}$$

$$21. \begin{cases} 2x - 3y + z = -3 \\ 4x + 4y + 2z = 4 ; \\ 2x + 3y + 2z = 5 \end{cases}$$

$$14. \begin{cases} 4x + 2y + z = 1 \\ x + y + z = -2 ; \\ 2x + y + 3z = 3 \end{cases}$$

$$22. \begin{cases} -x + 2y + 4z = 29 \\ 5x + 1y - z = 21 ; \\ 2x + y + 9z = 76 \end{cases}$$

$$23. \begin{cases} 3x - 3y + 5z = 26 \\ 5x + 3y - 11z = -26 ; \\ 8x + 2y - z = 22 \end{cases}$$

$$27. \begin{cases} 4x - 2y - 5z = -20 \\ -3x + 7y + 7z = 38 ; \\ x + 9y - 4z = 18 \end{cases}$$

$$24. \begin{cases} 4x + 5y - 2z = 15 \\ 2x + y + 3z = -5 ; \\ x - 5y + 7z = -30 \end{cases}$$

$$28. \begin{cases} 7x + 8y + 6z = 14 \\ 2x - 5y + z = 23 ; \\ 3x + 4y - z = -10 \end{cases}$$

$$25. \begin{cases} 2x + 8y + z = 80 \\ x - y + 6z = 17 ; \\ 3x + 4y - 5z = 22 \end{cases}$$

$$29. \begin{cases} 6x + 8y + 3z = -9 \\ -x + 4y + 9z = -24 \\ 5x - 2y - 7z = 28 \end{cases}$$

$$26. \begin{cases} 2x + 3y - 5z = -23 \\ 7x - 8y + 3z = -15 ; \\ 4x - 5y - z = -23 \end{cases}$$

$$30. \begin{cases} x + 5y - 6z = 7 \\ 2x - 2y + 5z = 15 . \\ 7x - 3y + 9z = 38 \end{cases}$$

Задание 3. Векторная алгебра

Пример выполнения задания 3

Задача. Даны четыре точки $A(2, -1, 3)$, $B(4, 5, 0)$, $C(2, 2, -1)$ и $D(2, 2, 5)$. Найти \vec{AB} , $|\vec{AB}|$, $\vec{AB} \times \vec{AC}$, $\cos \varphi$, где φ - угол между векторами \vec{AB} и \vec{AC} , направляющий вектор \vec{b} биссектрисы угла φ , площадь $S_{\Delta ABC}$ треугольника ABC , объем V_{ABCD} параллелепипеда $ABCD$, и высоту h_D , опущенную из вершины D .

Решение. Найдем векторы \vec{AB} и \vec{AC} , а также их длину:

$$\begin{aligned}\vec{AB} &= 2\vec{i} + 6\vec{j} - 3\vec{k}, & |\vec{AB}| &= \sqrt{2^2 + 6^2 + (-3)^2} = 7, \\ \vec{AC} &= 3\vec{j} - 4\vec{k}, & |\vec{AC}| &= \sqrt{3^2 + (-4)^2} = 5.\end{aligned}$$

Косинус угла между векторами вычислим с помощью скалярного произведения:

$$\cos \varphi = \frac{\vec{AB} \cdot \vec{AC}}{|\vec{AB}| \cdot |\vec{AC}|} = \frac{6}{7}.$$

Векторы $5\vec{AB}$ и $7\vec{AC}$ имеют одинаковую длину, поэтому их сумма \vec{b} направлена по биссектрисе угла φ , $\vec{b} = 10\vec{i} + 51\vec{j} - 43\vec{k}$.

Площадь треугольника ABC найдем с помощью векторного произведения:

$$\begin{aligned}S_{\Delta ABC} &= \frac{1}{2} |\vec{AB} \times \vec{AC}|, \\ \vec{AB} \times \vec{AC} &= \begin{vmatrix} \vec{i} & \vec{j} & \vec{k} \\ 2 & 6 & -3 \\ 0 & 3 & -4 \end{vmatrix} = -15\vec{i} + 8\vec{j} + 6\vec{k}, \\ S_{\Delta ABC} &= \frac{1}{2} \cdot \sqrt{225 + 64 + 36} = \frac{\sqrt{325}}{2}.\end{aligned}$$

Объем пирамиды найдем с помощью смешанного произведения:

$$V_{ABCD} = \frac{1}{6} \begin{vmatrix} 2 & 6 & -3 \\ 0 & 3 & -4 \\ 0 & 3 & 2 \end{vmatrix} = 6,$$

$$h_D = \frac{3V_{ABCD}}{S_{\Delta ABC}} = \frac{36}{\sqrt{325}} = \frac{36\sqrt{13}}{65}.$$

Варианты задания 3

Даны четыре точки A , B , C и D . Найти \vec{AB} , $|\vec{AB}|$, $\vec{AB} \times \vec{AC}$, $\cos \varphi$, где φ - угол векторами \vec{AB} и \vec{AC} , направляющий вектор бисектрисы угла φ , $S_{\Delta ABC}$, V_{ABCD} , h_D .

1. $A(1, 2, 3)$, $B(0, 0, 1)$, $C(4, 4, -3)$, $D(1, 2, 6)$;
2. $A(-1, 2, 1)$, $B(3, -1, 1)$, $C(1, 4, 2)$, $D(5, 2, 1)$;
3. $A(1, -2, 3)$, $B(-5, 0, 0)$, $C(-3, 1, 3)$, $D(1, 1, 3)$;
4. $A(2, 1, 1)$, $B(3, 3, 3)$, $C(-4, -1, -2)$, $D(6, 3, 3)$;
5. $A(-2, 1, 2)$, $B(2, 1, 5)$, $C(0, 2, 4)$, $D(-4, 0, 6)$;
6. $A(-2, -1, 1)$, $B(4, -3, 4)$, $C(2, 2, 1)$, $D(2, 3, 1)$;
7. $A(2, 1, 3)$, $B(4, 3, 4)$, $C(4, -2, -3)$, $D(6, 3, 4)$;
8. $A(2, 1, -3)$, $B(2, 4, 1)$, $C(3, 3, -5)$, $D(2, -2, -1)$;
9. $A(2, 1, -2)$, $B(-4, -4, 0)$, $C(5, 1, 2)$, $D(3, 1, 0)$;
10. $A(1, -2, 1)$, $B(-1, -1, 3)$, $C(3, 1, -5)$, $D(-1, 2, 3)$;
11. $A(1, 3, -1)$, $B(-2, 3, 3)$, $C(2, 5, -1)$, $D(2, 5, 8)$;
12. $A(3, 1, 2)$, $B(1, 4, 8)$, $C(3, 4, -2)$, $D(1, 7, 8)$;

13. $A(2, 1, 3), B(1, 3, 1), C(-1, 7, 5), D(1, 6, 1);$
14. $A(3, 1, -2), B(3, -2, 2), C(2, 3, -4), D(3, 4, 0);$
15. $A(3, 1, 1), B(5, 7, -2), C(6, 1, -3), D(4, 2, 2);$
16. $A(1, -2, 2), B(2, -4, 4), C(4, 0, -4), D(5, -4, 4);$
17. $A(2, 1, -1), B(2, 4, 3), C(4, 30), D(2, 4, 1);$
18. $A(2, 3, -3), B(-1, 1, 3), C(2, 6, 1), D(2, 1, -1);$
19. $A(1, 1, -1), B(-1, 2, 1), C(4, 3, 5), D(1, 4, -1);$
20. $A(2, -2, 1), B(-1, -2, -3), C(4, 1, 7), D(5, -2, 4);$
21. $A(1, -1, 2), B(3, 2, -4), C(1, 2, 6), D(1, 2, -1);$
22. $A(2, -1, 1), B(1, 1, -1), C(-4, 2, 3), D(6, 1, -1);$
23. $A(3, 1, 4), B(3, -3, 1), C(2, 3, 2), D(3, 4, 10);$
24. $A(3, 2, -1), B(-3, -1, 1), C(3, 5, 3), D(3, 3, 0);$
25. $A(4, 1, 5), B(2, 2, 3), C(-2, -1, 2), D(5, 2, 3);$
26. $A(2, -1, -3), B(2, 3, 0), C(3, 1, -1), D(2, 1, 0);$
27. $A(-3, -1, -2), B(3, -3, 1), C(1, 2, -2), D(1, 3, -2);$
28. $A(-1, -2, 3), B(1, 0, 4), C(3, -2, 0), D(2, -2, 6);$
29. $A(4, 2, -5), B(1, 2, -1), C(3, 0, -3), D(7, 2, 8);$
30. $A(3, 1, -1), B(6, 3, 5), C(6, 1, 3), D(0, -1, -1).$

Задание 4. Аналитическая геометрия на плоскости

Пример выполнения задания 4

Задача. Точки $A(1, 3)$ и $B(3, 1)$ являются концами одной из диагоналей ромба, длина другой диагонали равна $4\sqrt{2}$. Написать уравнения сторон ромба. Сделать рисунок.

Решение. Чтобы написать уравнения сторон ромба, необходимо найти третью вершину $C(x_0, y_0)$. Для этого составим сначала уравнение диагонали AB как уравнение прямой, проходящей через две заданные точки:

$$\frac{x - 1}{3 - 1} = \frac{y - 3}{1 - 3},$$

или

$$x + y - 4 = 0.$$

Составим уравнение другой диагонали ромба. По свойству диагоналей она проходит через середину отрезка AB и перпендикулярная ему. Координаты середины отрезка AB находим как половину суммы координат его концов, получим: $F(2, 2)$ - точка пересечения диагоналей. Нормальный вектор прямой AB имеет координаты $\vec{n}_1 = (1, 1)$, следовательно, за нормальный вектор второй диагонали можно принять вектор $\vec{n}_2 = (1, -1)$, перпендикулярный вектору \vec{n}_1 . По координатам точки $F(2, 2)$ и нормальному вектору \vec{n}_2 записываем уравнение второй диагонали CD :

$$x - 2 - (y - 2) = 0,$$

откуда получаем $x = y$.

Пусть координаты точки C равны (x_0, y_0) . В силу $x_0 = y_0$, мы получим $C(x_0, x_0)$. Расстояние от точки C до прямой AB равно половине длины диагонали CD , то есть равно $2\sqrt{2}$ по условию задачи. По формуле

расстояния от точки до прямой получаем:

$$\frac{x_0 + x_0 - 4}{\sqrt{2}} = 2\sqrt{2},$$

$$|x_0 - 2| = 2.$$

Отсюда $x_0 = 0$ или $x_0 = 4$. Таким образом, за точку C мы можем взять начало координат $C(0, 0)$. Легко теперь составить уравнение двух сторон ромба:

$$AC : 3x - y = 0,$$

$$BC : x - 3y = 0.$$

Две другие стороны BD и AD параллельны AC и BC соответственно и проходят через точки $A(1, 3)$ и $B(3, 1)$. Поэтому:

$$BD : 3(x - 3) - (y - 1) = 0, \quad 3x - y - 8 = 0,$$

$$AD : (x - 3) - 3(y - 1) = 0, \quad x - 3y + 8 = 0.$$

Рисунок 1 иллюстрирует решение задачи.

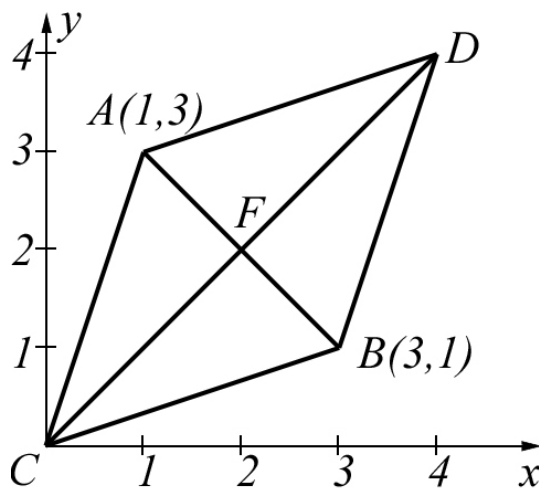


Рис. 1: к решению задания 4.

Варианты задания 4

1. Даны уравнения двух сторон параллелограмма $x - y - 1 = 0$ и $x - 2y = 0$ и точка пересечения его диагоналей $E(3, -1)$. Написать уравнения двух других сторон параллелограмма и найти угол между ними. Сделать рисунок.
2. Даны уравнения двух сторон ромба $x + 3y + 12 = 0$ и $x + 3y - 8 = 0$, и уравнение одной его диагонали $2x + y + 4 = 0$. Найти координаты вершин ромба. Сделать рисунок.
3. Написать уравнение прямой, проходящей через точку $(1, 6)$ так, чтобы середина ее отрезка, заключенного между прямыми $x - 5y + 23 = 0$ и $x - 5y + 11 = 0$, лежала на прямой $2x - y - 2 = 0$. Сделать рисунок.
4. На прямой $x + 2y - 12 = 0$ найти точки, равноудаленные от прямых $x + y - 5 = 0$ и $7x - y + 11 = 0$. Сделать рисунок.
5. Через точку $M(2, -5)$ проведена прямая так, что ее отрезок, заключенный между прямыми $x - y - 1 = 0$ и $2x - y - 18 = 0$, делится в точке M пополам. Составить уравнение этой прямой. Сделать рисунок.
6. Составить уравнения сторон квадрата, две параллельные стороны которого проходят соответственно через точки $(-1, 2)$ и $(0, 6)$, а две другие - через точки $(-3, 2)$ и $(-6, 0)$. Сделать рисунок.
7. Написать уравнение прямой, параллельной прямой $2x + 5y = 0$ и образующей вместе с осями координат треугольник, площадь которого равна 5. Сделать рисунок.

8. Составить уравнения прямых, равноудаленных от трех точек $A_1(1, 2)$, $A_2(3, 0)$, $A_3(-4, -5)$. Сделать рисунок.
9. На прямой $x - 3y + 1 = 0$ найти точку, равноудаленную от двух точек $(-3, 1)$ и $(5, 4)$. Сделать рисунок.
10. Точка $(3, 1)$ является вершиной равнобедренного треугольника, а прямая $2x + 3y - 1 = 0$ - его гипотенузой. Написать уравнения катетов. Сделать рисунок.
11. Составить уравнение прямой, параллельной прямой $5x - 12y = 0$ и отстоящей от точки $(1, 1)$ на расстоянии 3. Сделать рисунок.
12. На прямой $x - 3y + 13 = 0$ найти точки, отстоящие от прямой $x + 2y + 3 = 0$ на расстоянии $\sqrt{5}$. Сделать рисунок.
13. На осях координат найти точки, равноудаленные от прямых $5x - y + 6 = 0$, $5x + y - 3 = 0$. Сделать рисунок.
14. Даны две вершины $(0, 7)$ и $(-2, 3)$ треугольника, площадь которого равна 3, и прямая $x = 7$, на которой лежит третья вершина. Составить уравнения сторон треугольника. Сделать рисунок.
15. Даны середины сторон треугольника $A(1, 2)$, $B(3, -4)$, $C(-5, 8)$. Написать уравнения его сторон. Сделать рисунок.
16. Написать уравнения прямых, проходящих через точку $(3, 1)$ на расстоянии 2 от точки $(1, -2)$. Сделать рисунок.
17. Найти координаты вершины C прямоугольного треугольника ABC , если известно, что вершины $A(2, 3)$ и $B(6, -1)$ являются концами его гипотенузы, а вершина C лежит на прямой $x + y - 3 = 0$. Сделать рисунок.

18. Через точки $A(-8, 1)$ и $B(2, 1)$ проведены параллельные прямые, расстояние между которыми равно 6. Написать уравнения этих прямых. Сделать рисунок.
19. Написать уравнения сторон треугольника, у которого $x + y = 0$ и $2x - 3y + 1 = 0$ - высоты, а A - одна из вершин. Сделать рисунок.
20. В равнобедренном треугольнике ABC основание BC лежит на прямой $3x + 4y - 9 = 0$, длина боковых сторон AB и AC равна 6. Найти длину основания BC , если $A(3, -5)$. Сделать рисунок.
21. Вычислить длину стороны правильного треугольника, если точка $A(2, -3)$ является одной из его вершин, а прямая $3x - 4y + 7 = 0$ содержит одну из его сторон. Сделать рисунок.
22. Определить координаты точки, симметричной точке $M(2, -5)$ относительно прямой $2x + 8y - 15 = 0$. Сделать рисунок.
23. Отрезок AB перпендикулярен к прямой $x - 2y - 8 = 0$ и пересекает ее. Найти координаты конца B отрезка, если он отстоит от данной прямой в четыре раза дальше, чем точка $A(2, -1)$. Сделать рисунок.
24. Точка $C(-1, 5)$ является центром окружности, точка $M(1, 4)$ - серединой ее хорды. Написать уравнение этой хорды. Сделать рисунок.
25. Через точку $M(5, 3)$ проведена прямая, составляющая с осями координат треугольник площадью 30. Написать уравнения этой прямой. Сделать рисунок.
26. Точки $A(1, 2)$, $B(-1, 4)$, $C(3, 6)$ являются вершинами треугольника. Написать уравнения его медиан. Сделать рисунок.
27. Написать уравнения биссектрис углов, образуемых прямыми $7x + y - 1 = 0$ и $x - y + 2 = 0$ и убедиться в их перпендикулярности. Сделать рисунок.

28. Даны основания равнобедренного треугольника $x - y + 5 = 0$ и его боковая сторона $x + 3y + 2 = 0$. Составить уравнение второй боковой стороны, если она проходит через точку $P(1, 1)$. Сделать рисунок.
29. Даны уравнения сторон треугольника $3x - 2y + 3 = 0$, $2x - 3y + 7 = 0$, $x + y + 1 = 0$. Определить тангенсы внутренних углов. Сделать рисунок.
30. На прямой $x + 3y - 16 = 0$ найти точки, удаленные от прямой $2x + y - 2 = 0$ на расстояние $\sqrt{5}$. Сделать рисунок.

Задание 5. Аналитическая геометрия в пространстве

Пример выполнения задания 5

Задача. Даны две плоскости:

$$\alpha_1 : x + 2y - z + 1 = 0,$$

$$\alpha_2 : x - y + z - 2 = 0.$$

Составить уравнение плоскости α_3 перпендикулярной к плоскости α_1 и пересекающей ее по прямой, лежащей в плоскости α_2 . Сделать рисунок.

Решение. Поскольку линия пересечения плоскостей α_1 и α_3 лежит в плоскости α_2 , то плоскость α_3 принадлежит множеству плоскостей, проходящих через прямую пересечения плоскостей α_1 и α_2 (пучок плоскостей). Любую плоскость из этого множества мы можем записать в виде:

$$x + 2y - z + 1 + k(x - y + z - 2) = 0,$$

или

$$(1 + k)x + (2 - k)y + (k - 1)z + 1 - 2k = 0.$$

Для того, чтобы плоскости α_1 и α_3 были перпендикулярными, скалярное произведение их нормальных векторов $\vec{n}_1 = (1, 2, -1)$ и $\vec{n}_3 = (1 + k, 2 - k, -k - 1)$ должно быть равно нулю. Это приводит к уравнению для определения k :

$$(1 + k) + 2(2 - k) - (k - 1) = -2k + 6 = 0.$$

Получаем $k = 3$. Подставляя найденное значение в уравнение, получим уравнение искомой плоскости:

$$\alpha_3 : 4x - y + 2z - 5 = 0.$$

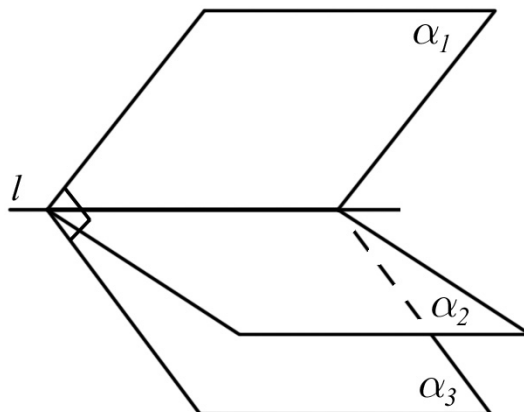


Рис. 2: к решению задания 5.

Варианты задания 5

1. Точки $A(2, 1, 1)$ и $B(1, 2, 2)$ проектируются из точки $C(1, 1, 2)$ на плоскость $x + y - z - 3 = 0$. Найти координаты проекций точек A и B и расстояние между ними. Сделать рисунок.
2. Через точку $A(1, -1, 1)$ проведена прямая, параллельная плоскости $x + y - z + 3 = 0$ и пересекающая прямую

$$\frac{x}{2} = \frac{y - 3}{1} = \frac{z}{-1}.$$

Найти уравнение этой прямой. Сделать рисунок.

3. Прямая

$$\frac{x - 1}{2} = \frac{y - 2}{3} = \frac{z}{1}$$

проектируется из точки $C(1, 1, 1)$ на плоскость $2x + y - z - 2 = 0$.

Найти уравнение проекции. Сделать рисунок.

4. Написать уравнение прямой, проходящей через точку $A(1, 0, -1)$ и пересекающей две прямые

$$\frac{x - 1}{1} = \frac{y + 1}{-1} = \frac{z}{3}, \quad \frac{x + 1}{-1} = \frac{y - 1}{1} = \frac{z + 2}{4}.$$

Сделать рисунок.

5. Из плоскости $x - 2y + 3z - 6 = 0$ координатными плоскостями высекается треугольник. Найти уравнение и длину высоты этого треугольника, опущенной из вершины, лежащей на оси Oz . Сделать рисунок.

6. Найти проекцию точки $A(2, 1, 1)$ на плоскость $x + y + 3z + 5 = 0$ и точку, симметричную точке A относительно данной плоскости. Сделать рисунок.

7. На прямой

$$\begin{cases} x - y - 2 = 0, \\ x + z = 2, \end{cases}$$

найти точку, равноудаленную от двух плоскостей: $x - y + z - 2 = 0$ и $x + y - z - 2 = 0$. Сделать рисунок.

8. Через прямую

$$\begin{cases} x - 2y + 1 = 0, \\ x - z + 2 = 0, \end{cases}$$

проведены две взаимно перпендикулярные плоскости, одна из которых проходит через точку $(1, -1, 1)$. Написать уравнения этих плоскостей. Сделать рисунок.

9. Написать уравнение плоскости, перпендикулярной к плоскости $x - y + 2z - 2 = 0$ и пересекающей ее по прямой, лежащей в плоскости Oxy . Сделать рисунок.

10. Написать уравнение плоскости, проходящей через точки $A(1, 0, 1)$ и $B(0, -1, 1)$ и отстоящей от точки $C(5, 0, -3)$ на расстоянии 4. Сделать рисунок.

11. Найти координаты точки, симметричной точке $A(1, 0, 1)$ относитель-

но прямой (сделать рисунок)

$$\frac{x}{1} = \frac{y+1}{2} = \frac{z-2}{-1}.$$

12. Найти общий перпендикуляр к двум скрещивающимся прямым:

$$x = y = z \text{ и}$$

$$\frac{x-1}{1} = \frac{y}{-1} = \frac{z}{2}.$$

Сделать рисунок.

13. Найти уравнение общего перпендикуляра к двум прямым: $x = y = z$ и $x = 1, y = 2$ и его длину между заданными прямыми. Сделать рисунок.

14. На прямой

$$\begin{cases} x + y - z = 0, \\ 3x - 7y + 3z = 11, \end{cases}$$

найти точку, одинаково удаленную от двух заданных точек $A(1, 0, -1)$ и $B(-1, 2, 1)$. Сделать рисунок.

15. Найти расстояние от точки $M(1, 2, -2)$ до плоскости, проходящей через две прямые:

$$\frac{x-2}{2} = \frac{y+3}{2} = \frac{z+4}{1},$$

$$x = 2t, \quad y = 5 + 2t, \quad z = -5 + t.$$

Сделать рисунок.

16. Составить уравнение плоскости, проходящей через прямую

$$\begin{cases} x = 0, \\ y + z = 1, \end{cases}$$

и отсекающей от координатных плоскостей пирамиду объемом $V = 6$. Сделать рисунок.

17. Принадлежат ли две прямые

$$\begin{cases} 2x + y - 2z = 4 \\ x - 2y + z = -5 \end{cases},$$

$$x = t, \quad y = 2t + 2, \quad z = 3t - 1,$$

одной плоскости? Если „да“, то написать уравнение этой плоскости. Сделать рисунок.

18. Убедившись, что данная плоскость $x + y - 3z = 10$ параллельная плоскости, проходящей через точки $A(5, 4, 3)$, $B(1, 2, 1)$, $C(3, 6, 3)$, найти расстояние между этими плоскостями. Сделать рисунок.

19. Составить уравнение проекции прямой $x = -t + 4$, $y = t - 3$, $z = 3t - 1$ на плоскость $2x + 4y - 3z = -1$. Сделать рисунок.

20. Составить уравнение плоскости, проходящей через прямую

$$\begin{cases} 3x + y - 3z = -19, \\ 2y - 3z = -26, \end{cases}$$

перпендикулярно к плоскости $4x - 3y + 5z = 46$. Сделать рисунок.

21. Найти проекцию точки $M(-2, 1, 0)$ на плоскость, проходящую через три точки: $A(1, 0, -1)$, $B(3, 1, -2)$, $C(2, 4, -5)$. Сделать рисунок.

22. Даны вершины треугольника $A(3, 0, 1)$, $B(1, 3, -2)$, $C(7, -1, -2)$. Найти параметрические уравнения медианы, проведенной из вершины A . Написать уравнение плоскости, перпендикулярной к плоскости треугольника ABC и содержащей указанную медиану. Сделать рисунок.

23. Доказать перпендикулярность прямых:

$$\begin{cases} x + y - 3z = 1, \\ 2x - y - 9z = 2, \end{cases}, \quad \begin{cases} 2x + y + 2z = -5, \\ 2x - 2y - z = -2. \end{cases}$$

Написать уравнение плоскости, содержащей первую прямую и перпендикулярную второй прямой. Сделать рисунок.

24. Составить уравнения плоскостей, проходящих через точку $M(-2, -3, 1)$ и отсекающих от координатных осей равные отрезки. Написать канонические уравнения перпендикуляров, опущенных из начала координат на эти плоскости. Сделать рисунок.

25. Составить уравнение плоскости, проходящей через прямую $x = t + 1, y = -1 + 2t, z = 2 + 4t$ перпендикулярно к плоскости $3x + 2y - z - 5 = 0$.

26. Написать уравнения биссектрис углов, образуемых двумя пересекающимися прямыми:

$$\begin{cases} 3x - y + z = 6, \\ x - y - z = 0, \end{cases}, \quad \begin{cases} x + y - z = -2, \\ x - y - 3z = -4. \end{cases}$$

Сделать рисунок.

27. Проверить, являются ли две прямые скрещивающимися; если „да“, то составить уравнения двух параллельных плоскостей, проходящих через указанные прямые:

$$\frac{x+1}{2} = \frac{y+5}{-3} = \frac{z-1}{5}, \quad \frac{x-2}{1} = \frac{y+3}{2} = \frac{z+1}{-1}.$$

Сделать рисунок.

28. Найти уравнение плоскости, содержащей параллельные прямые:

$$\frac{x-1}{1} = \frac{y+2}{2} = \frac{z}{3}, \quad \frac{x+4}{1} = \frac{y-2}{2} = \frac{z+2}{3}.$$

Сделать рисунок.

29. Найти расстояние от точки $M(-3, 4, -5)$ до плоскости, содержащей в себе точку $A(1, 2, 0)$ и прямую (сделать рисунок)

$$\frac{x-2}{-1} = \frac{y+1}{4} = \frac{z-1}{-2}.$$

30. Даны вершины треугольника $A(1, -1, 2)$, $B(2, 1, 1)$, $C(3, -2, 3)$. Найти уравнение биссектрисы, проведенной из угла A . Написать уравнение плоскости, перпендикулярной к плоскости треугольника ABC и содержащей указанную биссектрису. Сделать рисунок.

Задание 6. Канонические уравнения кривых на плоскости

Пример выполнения задания 6

Задача. Фокусы эллипса совпадают с фокусами гиперболы $\frac{x^2}{9} - \frac{y^2}{4} = 1$. Эллипс проходит через точку $M(-2; 1, 5)$. Составить уравнение этого эллипса. Сделать рисунок.

Решение. Обозначим через a_1 и b_1 полуоси данной гиперболы, через a и b - полуоси искомого эллипса. Имеем $a_1^2 = 9$, $b_1^2 = 4$, откуда $c_1^2 = a_1^2 + b_1^2 = 13$. Так как фокусы эллипса совпадают с фокусами данной гиперболы, то и для эллипса $c^2 = c_1^2 = 13$. Уравнение эллипса ищем в каноническом виде:

$$\frac{x^2}{a^2} + \frac{y^2}{b^2} = 1.$$

Так как точка $M(-2; 1, 5)$ принадлежит эллипсу, то ее координаты удовлетворяют уравнению эллипса и, кроме того, выполнено соотношение $a^2 - b^2 = 13$. Таким образом, для определения a и b имеем систему:

$$\begin{cases} \frac{(-2)^2}{a^2} + \frac{(1,5)^2}{b^2} = 1; \\ a^2 - b^2 = 13. \end{cases}$$

Обозначив $b^2 = t$, ($t > 0$) и $a^2 = 13 + t$, получим $\frac{4}{13+t} + \frac{9}{4t} = 1$, $a^2 = 13 + t$.

Решая, находим $t = b^2 = 3$, $a^2 = 16$.

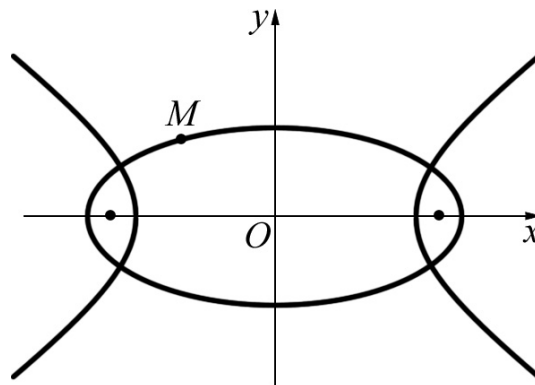


Рис. 3: к решению задания 6.

Варианты задания 6

1. Написать уравнение эллипса, проходящего через точку пересечения гиперболы $x^2 - y^2 = 2$ с прямой $x + y - 2 = 0$, если известно, что фокусы эллипса совпадают с фокусами гиперболы. Сделать рисунок.
2. Составить уравнение гиперболы, имеющей общие фокусы с эллипсом $\frac{x^2}{49} + \frac{y^2}{24} = 1$ при условии, что ее эксцентриситет $\varepsilon = 1,25$. Сделать рисунок.
3. Написать уравнение такой окружности, чтобы ее диаметром оказался отрезок прямой $x + y = 4$, заключенный между осями координат. Сделать рисунок.
4. Большая ось эллипса втрое больше его малой оси. Составить каноническое уравнение этого эллипса, если он проходит через точку $M(3, \sqrt{3})$. Сделать рисунок.
5. Дана гипербола $x^2 - y^2 = 8$. Составить уравнение эллипса, проходящего через точку $M(4, 6)$ и имеющего фокусы, которые совпадают с фокусами данной гиперболы. Сделать рисунок.
6. Найти точки пересечения параболы $y^2 = 8x$ с эллипсом, у которого правый фокус совпадает с фокусом этой параболы, большая полуось равна 4 и фокусы лежат на оси Ox . Сделать рисунок.
7. Фокусы гиперболы лежат в точках $F_1(-\sqrt{7}, 0)$ и $F_2(\sqrt{7}, 0)$. Гипербола проходит через точку $A(2, 0)$. Найти уравнения ее асимптот. Сделать рисунок.
8. Найти параметр p параболы $y^2 = 2px$, если известно, что эта парабола проходит через точки пересечения прямой $y = x$ с окружностью $x^2 + y^2 - 6x = 0$. Сделать рисунок.

9. Найти точки пересечения параболы $y^2 = 4x$ с прямой, проходящей через фокус этой параболы, параллельно ее директрисе. Сделать рисунок.
10. Через правый фокус гиперболы $4x^2 - 5y^2 = 20$ проведены прямые, параллельные ее асимптотам. Определить точки пересечения этих прямых с гиперболой. Сделать рисунок.
11. Написать уравнение окружности, проходящей через начало координат, центр которой совпадает с фокусом параболы $y^2 = 8x$. Сделать рисунок.
12. Оси гиперболы совпадают с осями координат. Гипербола проходит через точки пересечения параболы $x^2 = 2y$ с прямой $x - 2y + 6 = 0$. Составить уравнение этой гиперболы. Сделать рисунок.
13. Эллипс проходит через точку пересечения прямой $3x + 2y - 7 = 0$ с параболой $y^2 = 4x$ (взять точку с меньшей абсциссой). Оси эллипса совпадают с осями координат. Составить уравнение этого эллипса, если его эксцентриситет равен $3/5$. Сделать рисунок.
14. Эксцентриситет гиперболы в 2 раза больше углового коэффициента ее асимптоты. Гипербола проходит через точку $M(3, -1)$, и ее действительная ось лежит на оси Ox , а центр - в начале координат. Найти точки пересечения этой гиперболы с окружностью $x^2 + y^2 = 10$. Сделать рисунок.
15. Написать уравнение параболы, вершина которой находится в начале координат, а осью симметрии является ось Ox , если известно, что расстояние от ее фокуса до центра окружности $x^2 + y^2 - 10x - 8y + 25 = 0$ равно 5. Сделать рисунок.
16. Составить каноническое уравнение эллипса, правая вершина которого совпадает с правым фокусом гиперболы $8x^2 - y^2 = 8$. Эллипс

- проходит через точки пересечения параболы $y^2 = 12x$ с гиперболой $8x^2 - y^2 = 8$. Сделать рисунок.
17. Вычислить расстояние от фокуса гиперболы $\frac{x^2}{5} - \frac{y^2}{4} = 1$ до ее асимптоты. Найти эксцентриситет этой гиперболы. Сделать рисунок.
18. Найти точки пересечения параболы $y^2 = x$ с окружностью, которая проходит через начало координат, имеет центр на оси Ox и радиус, равный 5. Сделать рисунок.
19. Составить уравнение эллипса, если его фокусы совпадают с фокусами гиперболы $\frac{x^2}{5} - \frac{y^2}{4} = 1$, а эксцентриситет эллипса равен $3/5$. Сделать рисунок.
20. Окружность имеет центр в левой вершине гиперболы $\frac{x^2}{16} - \frac{y^2}{4} = 1$ и радиус, равный вещественной полуоси этой гиперболы. Найти точки пересечения этой окружности с асимптотами гиперболы $\frac{x^2}{16} - \frac{y^2}{4} = 1$. Сделать рисунок.
21. Написать уравнение гиперболы, имеющей эксцентриситет $\varepsilon = 3/2$, если известно, что ее фокусы совпадают с фокусами эллипса $\frac{x^2}{15} + \frac{y^2}{6} = 1$. Сделать рисунок.
22. Составить уравнение окружности, диаметром которой служит отрезок прямой $x + y = 4$, вырезанный параболой $y^2 = 2x$.
23. Найти расстояние от фокуса параболы $y = \frac{1}{8}x^2$ до прямой $3x + 4y + 2 = 0$. Сделать рисунок.
24. Написать уравнение окружности, проходящей через точки $M(3, 0)$ и $N(-1, 2)$, если известно, что ее центр лежит на прямой $x - y + 2 = 0$. Сделать рисунок.
25. Вычислить расстояние от центра окружности $x^2 + y^2 = 10x$ до асимптот гиперболы $\frac{x^2}{20} - \frac{y^2}{5} = 1$. Сделать рисунок.

26. Составить каноническое уравнение эллипса, сумма полуосей которого равна 8, а расстояние между фокусами равно 8. Сделать рисунок.
27. В эллипс $\frac{x^2}{49} + \frac{y^2}{24} = 1$ вписан прямоугольник, две противоположные стороны которого проходят через фокусы. Вычислить площадь этого прямоугольника. Сделать рисунок.
28. Составить уравнение окружности, проходящей через точки $A(5, 0)$ и $B(1, 4)$, если центр ее лежит на прямой $x + y = 3$. Сделать рисунок.
29. Написать каноническое уравнение эллипса, у которого эксцентриситет равен $4/5$, а большая полуось больше малой полуоси на две единицы. Сделать рисунок.
30. Найти каноническое уравнение гиперболы, проходящей через точку $M(\sqrt{40}, 2)$ и имеющей асимптоты $y = \pm \frac{1}{3}x$. Сделать рисунок.

Задание 7. Каноническая форма кривых второго порядка

Пример выполнения задания 7

Задача. Дано уравнение кривой второго порядка

$$5x^2 + 4xy + 8y^2 - 52x - 64y + 164 = 0.$$

Выполнив последовательно преобразования координат: поворот, а затем параллельный перенос координатных осей, преобразовать к каноническому виду уравнение кривой второго порядка и построить ее в канонической и исходной системе координат, а также найти параметры кривой.

Решение. Выполняем поворот осей по формулам

$$x = x_1 \cos \alpha - y_1 \sin \alpha,$$

$$y = x_1 \sin \alpha + y_1 \cos \alpha$$

Подставим эти выражения для x и y в исходное уравнение и выделим коэффициент при $x_1 y_1$:

$$\begin{aligned} & 5(x_1^2 \cos^2 \alpha - 2x_1 y_1 \cos \alpha \sin \alpha + y_1^2 \sin^2 \alpha) + \\ & + 4(x_1^2 \cos \alpha \sin \alpha + (\cos^2 \alpha - \sin^2 \alpha) x_1 y_1 - y_1^2 \sin \alpha \cos \alpha) + \\ & + 8(x_1^2 \sin^2 \alpha + 2x_1 y_1 \sin \alpha \cos \alpha + y_1^2 \cos^2 \alpha) - \\ & - 52(x_1 \cos \alpha - y_1 \sin \alpha) - 64(x_1 \sin \alpha + y_1 \cos \alpha) + 164 = 0. \end{aligned}$$

Приравняв нулю коэффициент при $x_1 y_1$, получаем:

$$-10 \cos \alpha \sin \alpha + 4 \cos^2 \alpha - 4 \sin^2 \alpha + 16 \sin \alpha \cos \alpha = 0,$$

откуда $(\operatorname{tg} \alpha)_1 = 2$, $(\operatorname{tg} \alpha)_2 = -1/2$. Зная $\operatorname{tg} \alpha$, можно найти $\sin \alpha$ и $\cos \alpha$ по формулам тригонометрии:

$$\sin \alpha = \pm \frac{\operatorname{tg} \alpha}{\sqrt{1 + \operatorname{tg}^2 \alpha}}, \quad \cos \alpha = \pm \frac{1}{\sqrt{1 + \operatorname{tg}^2 \alpha}}.$$

Если угол поворота α условиться считать острым, то в этих формулах надо брать знак плюс, и для $\operatorname{tg} \alpha$ надо взять также положительное решение. Выберем, например, угол поворота $\alpha : \operatorname{tg} \alpha = 2$, найдем $\cos \alpha = \frac{1}{\sqrt{5}}$, $\sin \alpha = \frac{2}{\sqrt{5}}$ и подставим их в уравнение кривой в новых координатах. После вычисления коэффициентов получим уравнение:

$$9x_1^2 + 4y_1^2 - 36\sqrt{5}x_1 + 8\sqrt{5}y_1 + 164 = 0.$$

В полученном уравнении выделим полные квадраты двучленов $x_1 + x_0$ и $y_1 + y_0$:

$$9(x_1 - 2\sqrt{5})^2 + 4(y_1 + \sqrt{5})^2 - 36 = 0.$$

Выполнив параллельный перенос по формулам

$$x_1 - 2\sqrt{5} = X, \quad y_1 + \sqrt{5} = Y,$$

получим в системе $XO'Y$ уравнение кривой

$$\frac{X^2}{4} + \frac{Y^2}{9} = 1.$$

Это эллипс с полуосями 2 и 3 соответственно (рис.).

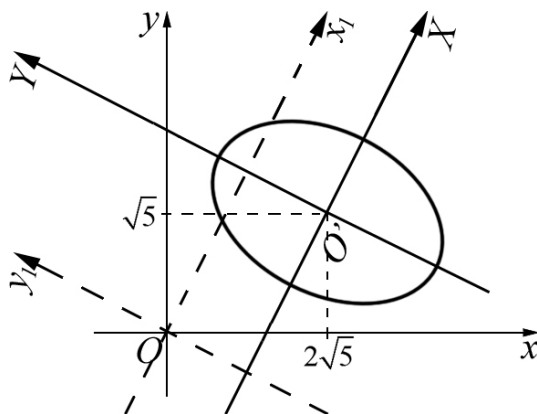


Рис. 4: к решению задания 7.

Варианты задания 7

Выполнив последовательно преобразования координат: поворот, а затем параллельный перенос координатных осей, преобразовать к каноническому виду уравнение кривой второго порядка и построить ее в канонической и исходной системе координат, а также найти параметры кривой.

1. $5x^2 + 5y^2 + 6xy - 8\sqrt{2}x - 8\sqrt{2}y = 0;$
2. $17x^2 + 8y^2 + 12xy - 32\sqrt{5}x - 16\sqrt{5}y + 60 = 0;$
3. $3x^2 + 3y^2 - 20xy + 8\sqrt{2}x - 8\sqrt{2}y = 0;$
4. $13x^2 + 37y^2 + 18xy - 16\sqrt{10}x - 48\sqrt{10}y + 120 = 0;$
5. $4x^2 + 4y^2 - 10xy - 27\sqrt{2}x + 27\sqrt{2}y + 72 = 0;$
6. $x^2 + 37y^2 - 32xy - 36\sqrt{5}x + 72\sqrt{5}y + 135 = 0;$
7. $3\sqrt{5}x^2 + 4\sqrt{5}xy - 16x - 8y = 0;$
8. $5x^2 + 5y^2 - 6xy + 8\sqrt{2}x - 8\sqrt{2}y = 0;$
9. $x^2 + 4y^2 - 4xy + 2\sqrt{5}x + \sqrt{5}y + 15 = 0;$
10. $x^2 + 9y^2 + 6xy - 3\sqrt{10}x - 19\sqrt{10}y + 90 = 0;$
11. $5x^2 + 5y^2 - 6xy - 16\sqrt{2}x + 16\sqrt{2}y + 24 = 0;$
12. $7\sqrt{5}x^2 + \sqrt{5}y^2 + 8\sqrt{5}xy + 72x + 36y + 27\sqrt{5} = 0;$
13. $13x^2 + 37y^2 + 18xy + 24\sqrt{10}x + 72\sqrt{10}y + 320 = 0;$
14. $5x^2 + 5y^2 - 8xy - 18\sqrt{2}x + 18\sqrt{2}y + 27 = 0;$
15. $17x^2 + 8y^2 + 12xy - 16\sqrt{5}x - 8\sqrt{5}y = 0;$

16. $x^2 + y^2 - 2xy - 7\sqrt{2}x + 9\sqrt{2}y + 32 = 0;$
17. $13x^2 + 37y^2 - 32xy - 36\sqrt{5}x + 72\sqrt{5}y + 135 = 0;$
18. $5x^2 + 5y^2 + 6xy - 4\sqrt{2}x + 4\sqrt{2}y = 0;$
19. $35x^2 - 5y^2 + 30xy - 48\sqrt{10}x - 16\sqrt{10}y + 120 = 0;$
20. $x^2 + y^2 + 2xy - 7\sqrt{2}x - 9\sqrt{2}y + 32 = 0;$
21. $x^2 - 2xy + y^2 + 7\sqrt{2}x - 9\sqrt{2}y + 32 = 0;$
22. $\sqrt{5}x^2 + 7\sqrt{5}y^2 - 8\sqrt{5}xy - 36x + 72y + 27\sqrt{5} = 0$
23. $4x^2 + y^2 + 4xy + \sqrt{5}x - 2\sqrt{5}y + 15 = 0;$
24. $5x^2 + 5y^2 + 8xy + 18\sqrt{2}x + 18\sqrt{2}y + 27 = 0;$
25. $9x^2 + 6xy + y^2 + \sqrt{10}x - 3\sqrt{10}y + 30 = 0;$
26. $8x^2 + 17y^2 - 12xy + 8\sqrt{5}x - 16\sqrt{5}y = 0;$
27. $3x^2 + 3y^2 + 10xy - 8\sqrt{2}x - 8\sqrt{2}y = 0;$
28. $x^2 + 9y^2 + 6xy - 3\sqrt{10}x - 19\sqrt{10}y + 90 = 0;$
29. $3x^2 + 3y^2 - 10xy - 16\sqrt{2}x + 16\sqrt{2}y + 24 = 0;$
30. $5x^2 + 5y^2 - 8xy + 8\sqrt{2}x - 10\sqrt{2}y + 1 = 0;$

Задание 8. Поверхности второго порядка

Пример выполнения задания 8

Задача. Изобразить тело, ограниченное поверхностями

$$z = -1 + x^2 + y^2, \quad z = -\sqrt{x^2 + y^2 - 1}, \quad z = -1 - \sqrt{3} + \sqrt{1 + x^2 + y^2}.$$

Назвать типы этих поверхностей, нарисовать сечение этого тела плоскостью XOZ (при $x \geq 0$) и само тело в исходной координатной системе.

Решение. Первое уравнение запишем в виде

$$x^2 + y^2 = z + 1.$$

Это параболоид вращения с вершиной в точке $(0, 0, -1)$. Второе уравнение после возведения в квадрат и простейшей перестановки членов приобретает вид:

$$x^2 + y^2 - z^2 = 1.$$

Это однополостный гиперboloид вращения. Второе уравнение представляет его нижнюю половину ($z \leq 0$). Третье уравнение после перенесения постоянных слагаемых в левую часть, возведения в квадрат обеих частей равенства и перенесения $x^2 + y^2$ в левую часть приводится к виду

$$-x^2 - y^2 + (z + 1 + \sqrt{3})^2 = 1.$$

Это двуполостный гиперboloид, сдвинутый против оси z на $1 + \sqrt{3}$. Третье уравнение задает его верхнюю половину ($z \leq -\sqrt{3}$). Тело изображено на рисунке 5.

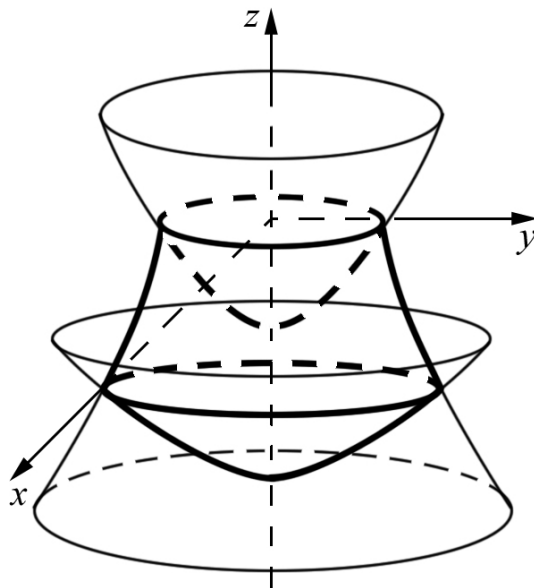


Рис. 5: к решению задания 8.

Варианты задания 8

Приведенные поверхности ограничивают в пространстве некоторые тела вращения конечных размеров. Назвать типы этих поверхностей и нарисовать тело в данной системе координат.

1. a) $z = \sqrt{4 - x^2 - y^2}$, $z = \sqrt{x^2 + y^2} - 2$;
 b) $y = x^2 + z^2$, $y = 4$;
 c) $z = 1 + \sqrt{2} - \sqrt{4 - x^2 - y^2}$, $z = -1 + x^2 + y^2$,
 $z = -1 + \sqrt{x^2 + y^2}$.
2. a) $z = x^2 + y^2$, $z = 4$;
 b) $y = -\sqrt{4 - x^2 - z^2}$, $y = 0$;
 c) $z = 1 - \sqrt{3} + \sqrt{x^2 + y^2 + 1}$, $z = -1 + x^2 + y^2$, $z = 1 - x^2 - y^2$,
 $z = -1 - \sqrt{2 - x^2 - y^2}$;
3. a) $z = \sqrt{x^2 + y^2}$, $z = 4$;
 b) $x^2 + z^2 = 4$ ($0 \leq y \leq 4$), $y = -\sqrt{4 - x^2 - z^2}$, $y = 4$;

$$\begin{aligned} c) \quad z &= \sqrt{2} - \sqrt{x^2 + y^2 + 1}, \quad z = 1 - x^2 - y^2, \\ z &= -1 - \sqrt{2 - x^2 - y^2}. \end{aligned}$$

$$4. \quad a) \quad x^2 + y^2 = 4, \quad z = 2 - y, \quad z = 0;$$

$$b) \quad y^2 = x^2 + z^2, \quad y = -2, \quad y = 4;$$

$$c) \quad z = (1 + (x^2 + y^2)/2) / 2, \quad x^2 + y^2 = 2, \quad z = -1 - \sqrt{2 - x^2 - y^2}.$$

$$5. \quad a) \quad x^2 + y^2 + z^2 = 4, \quad z = y \quad (z \leq y);$$

$$b) \quad y = 2\sqrt{x^2 + z^2}, \quad y = 4;$$

$$c) \quad z = 1 - x^2 - y^2, \quad z = 1 - x^2 - y^2, \quad z = -1 - \sqrt{2 - x^2 - y^2}.$$

$$6. \quad a) \quad z^2 = x^2 + y^2, \quad z = -2, \quad z = 4;$$

$$b) \quad x^2 + z^2 = 4, \quad y = \sqrt{4 - x^2 - z^2}, \quad y = -4;$$

$$c) \quad z = 1 + \sqrt{2} - \sqrt{x^2 + y^2}, \quad x^2 + y^2 = 2, \quad z = -\frac{1}{2} \left(1 + \frac{1}{2}(x^2 + y^2)\right).$$

$$7. \quad a) \quad z = -\sqrt{4 - x^2 - y^2}, \quad z = -2\sqrt{x^2 + y^2} + 4;$$

$$b) \quad y = x^2 + z^2 - 4, \quad y = 0;$$

$$c) \quad z = 1 + \sqrt{2 - x^2 - y^2}, \quad x^2 + y^2 = 2, \quad z = -\frac{1}{2} \left(1 + \frac{1}{2}(x^2 + y^2)\right).$$

$$8. \quad a) \quad z = x^2 + y^2 - 4, \quad z = \sqrt{4 - x^2 - y^2};$$

$$b) \quad x^2 + z^2 = 4, \quad z = 6 - y, \quad y = 0;$$

$$\begin{aligned} c) \quad z &= 1 + \sqrt{2 - x^2 - y^2}, \quad z = \sqrt{x^2 + y^2 - 1}, \\ z &= -\sqrt{x^2 + y^2 - 1}, \quad z = -1 - \sqrt{2} + \sqrt{x^2 + y^2}. \end{aligned}$$

$$9. \quad a) \quad x^2 + y^2 = 4, \quad z - y = 4, \quad z = 0;$$

$$b) \quad z = -\sqrt{4 - x^2 - y^2}, \quad z = 4 - x^2 - y^2;$$

$$c) \quad z = 1 + \sqrt{2 - x^2 - y^2}, \quad z = \sqrt{x^2 + y^2 - 1}, \quad z = -1 + \sqrt{x^2 + y^2}.$$

$$10. \quad a) \quad z = 4 - \sqrt{x^2 + y^2}, \quad z = 0;$$

$$b) \quad x^2 + z^2 = 1, \quad z = 1 - y, \quad y = 0;$$

- c) $z = 1 + \sqrt{2 - x^2 - y^2}$, $z = -1 + x^2 + y^2$, $z = 1 - x^2 - y^2$,
 $z = -1 - \sqrt{2} + \sqrt{x^2 + y^2}$
11. a) $x^2 + y^2 = 4$, $z = y + 2$, $z = 0$;
 b) $y = -2\sqrt{x^2 + z^2}$, $y = -4 - \sqrt{4 - x^2 - z^2}$;
 c) $z = 1 - \sqrt{2 - x^2 - y^2}$, $z = -\sqrt{x^2 + y^2 - 1}$,
 $z = -1 - \sqrt{2} + \sqrt{x^2 + y^2}$.
12. a) $z = x^2 + y^2$, $z = 8 - 2\sqrt{x^2 + y^2}$;
 b) $y = 2 - \sqrt{x^2 + z^2}$, $y = -\sqrt{4 - x^2 - z^2}$;
 c) $z = -1 + x^2 + y^2$, $z = -\sqrt{x^2 + y^2 - 1}$,
 $z = -1 - \sqrt{2} + \sqrt{4 - x^2 - y^2}$.
13. a) $x^2 + y^2 - z = 0$, $z = 2 - y$;
 b) $x^2 + z^2 = 4$, $z + y = 4$, $y = 0$;
 c) $z = 1 - \sqrt{3} + \sqrt{x^2 + y^2 + 1}$, $z = -1 + x^2 + y^2$,
 $z = 1 - \sqrt{2 - x^2 - y^2}$.
14. a) $z = \sqrt{x^2 + y^2}$, $z = 2 - \sqrt{x^2 + y^2}$;
 b) $x^2 + z^2 = 4$, $y = x^2 + z^2 - 4$, $y = 3$;
 c) $z = -1 + \sqrt{2 - x^2 - y^2}$, $z = -\sqrt{x^2 + y^2 - 1}$,
 $z = -1 - \sqrt{3} + \sqrt{x^2 + y^2 + 1}$;
15. a) $z = \sqrt{4 - x^2 - y^2}$, $z = \sqrt{x^2 + y^2} - 2$;
 b) $x^2 + y^2 - z^2 = 0$, $z = \pm 4$;
 c) $z = 1 + \sqrt{2} - \sqrt{4 - x^2 - y^2}$, $z = \sqrt{x^2 + y^2 - 1}$, $z = 1 - x^2 - y^2$.
16. a) $z = \sqrt{x^2 + y^2}$, $z = 6 - x^2 - y^2$;
 b) $x^2 + z^2 = 4$, $z = 2 + y$, $y = 2 - z$;
 c) $z = 1 + \sqrt{3} - \sqrt{x^2 + y^2 + 1}$, $z = \sqrt{x^2 + y^2 - 1}$,
 $z = 1 - \sqrt{2 - x^2 - y^2}$.

17. a) $z = \sqrt{4 - x^2 - y^2}$, $z = x^2 + y^2 - 4$, $y = 0$ ($y \leq 0$);
 b) $x^2 + z^2 = 4$, $y = 2 - \sqrt{x^2 + z^2}$, $y = -4$;
 c) $z = 1 + \sqrt{2 - x^2 - y^2}$, $x^2 + y^2 = 2$,
 $z = -1 - \sqrt{3} + \sqrt{x^2 + y^2 + 1}$;
18. a) $x^2 + y^2 = 4$, $z = 8 - x^2 - y^2$, $z = 0$;
 b) $x^2 + z^2 = 4$, $z = 4 + y$, $y = 0$;
 c) $z = 1 + \sqrt{2} - \sqrt{x^2 + y^2}$, $x^2 + y^2 = 2$,
 $z = -1 - \sqrt{3} + \sqrt{x^2 + y^2 + 1}$.
19. a) $z = x^2 + y^2 - 8$, $z = -2\sqrt{x^2 + y^2}$;
 b) $x^2 + z^2 = 4$, $y = \sqrt{x^2 + z^2} - 2$, $y = 2$;
 c) $z = 1 - \sqrt{x^2 + y^2}$, $z = -(1 + \sqrt{2})(\sqrt{x^2 + y^2} - 1)$,
 $z = -1 - \sqrt{2} + \sqrt{4 - x^2 - y^2}$.
20. a) $z = x^2 + y^2$, $z = 2 - x^2 - y^2$;
 b) $y = 2\sqrt{x^2 + z^2} - 4$, $y = \sqrt{4 - x^2 - z^2}$;
 c) $z = 1 + \sqrt{3} - \sqrt{x^2 + y^2 + 1}$, $x^2 + y^2 = 2$,
 $z = -1 - \sqrt{2 - x^2 - y^2}$.
21. a) $z = 4 - x^2 - y^2$, $z = -\sqrt{4 - x^2 - y^2}$;
 b) $x^2 + z^2 = 4$, $z = -y$, $z = y + 4$;
 c) $z = -1 + \sqrt{x^2 + y^2}$, $x^2 + y^2 = 2$,
 $z = -3 + x^2 + y^2$.
22. a) $z = \sqrt{4 - x^2 - y^2}$, $z = \sqrt{x^2 + y^2} - 2$;
 b) $x^2 + z^2 = 4$, $y = 4 - x^2 - z^2$, $y = -4$;
 c) $z = 1 + \sqrt{3} - \sqrt{x^2 + y^2 + 1}$, $x^2 + y^2 = 2$, $z = 1 - \sqrt{x^2 + y^2}$.
23. a) $2y = x^2 + z^2 + y^2$, $y + z = 1$ ($z \leq 1 - y$);
 b) $y = x^2 + z^2 - 4$, $y = \sqrt{4 - x^2 - z^2}$;

- c) $z = -1 - \sqrt{2} + \sqrt{4 - x^2 - y^2}$, $x^2 + y^2 = 2$,
 $z = 1 + \sqrt{2} - \sqrt{4 - x^2 - y^2}$.
24. a) $x^2 + y^2 = 4$, $z = \sqrt{4 - x^2 - y^2} + 4$, $z = 0$;
 b) $y = -\sqrt{4 - x^2 - z^2}$, $y = -\sqrt{x^2 + z^2} + 2$;
 c) $z = -\sqrt{2} + \sqrt{x^2 + y^2 + 1}$, $z = 1 - x^2 - y^2$,
 $z = -1 - \sqrt{2 - x^2 - y^2}$.
25. a) $z = 2 - \sqrt{x^2 + y^2}$, $z = -\sqrt{4 - x^2 - y^2}$;
 b) $x^2 + z^2 = 4$, $z = y + 6$, $y = 6$;
 c) $z = 1 + \sqrt{3} - \sqrt{x^2 + y^2 + 1}$, $z = -1 + x^2 + y^2$,
 $z = 1 - \sqrt{2 - x^2 - y^2}$.
26. a) $z^2 = x^2 + y^2$, $z = 2$, $z = 4$;
 b) $x^2 + z^2 = 4$, $y = -\sqrt{4 - x^2 - z^2}$, $y = 4$;
 c) $z = -\sqrt{2} + \sqrt{x^2 + y^2 + 1}$, $z = -\sqrt{x^2 + y^2 - 1}$,
 $z = -1 - \sqrt{2 - x^2 - y^2}$.
27. a) $z = 4 - x^2 - y^2$, $z = -\sqrt{4 - x^2 - y^2}$;
 b) $x^2 + y^2 = 1$, $z = \sqrt{1 - x^2 - y^2} + 2$, $z = 0$;
 c) $z = 1 + \sqrt{2 - x^2 - y^2}$, $z = -1 + x^2 + y^2$,
 $z = -\sqrt{2} + \sqrt{x^2 + y^2 + 1}$.
28. a) $z = x^2 + y^2$, $z = 2 - \sqrt{x^2 + y^2}$;
 b) $y^2 = x^2 + z^2$, $y = -4$, $y = 2$;
 c) $z = 1 + \sqrt{2} - \sqrt{4 - x^2 - y^2}$, $z = -1 + x^2 + y^2$,
 $z = -1 + \sqrt{x^2 + y^2}$.
29. a) $x^2 + y^2 = 4$, $z = -\sqrt{4 - x^2 - y^2}$, $z = 4$;
 b) $y = -2 + \sqrt{x^2 + z^2}$, $y = \sqrt{4 - x^2 - z^2}$;
 c) $z = 1 + \sqrt{2 - x^2 - y^2}$, $z = -1 + x^2 + y^2$, $z = -1 + x^2 + y^2$.

30. a) $z = 4 - x^2 - y^2$, $z = \sqrt{x^2 + y^2} - 2$;

b) $y = \sqrt{9 - x^2 - z^2} + 3$, $x^2 + z^2 = 9$, $y = 0$;

c) $z = \sqrt{2} - \sqrt{x^2 + y^2 + 1}$, $z = -\sqrt{x^2 + y^2 - 1}$,
 $z = -1 - \sqrt{2 - x^2 - y^2}$.

Список литературы

- [1] Беклемишев Д.В. Курс аналитической геометрии и линейной алгебры: Учеб. для вузов. – 10-е изд., испр. - М.: Физматлит, 2005. -304с.
- [2] Ильин В.А., Позняк Э.Г., Аналитическая геометрия: Учеб. для вузов. – 5-е изд., - М.: Наука. Физматлит, 1999. -224с.
- [3] Демидович Б.П., Ефимов А.В., Сборник задач по математике для вузов. В 4-х частях. Ч. 1. Линейная алгебра и основы математического анализа: Учеб. пособие для вузов. – 3-е изд., испр. - М.: Наука. 1993. -480с.
- [4] Беклемишева Л.А., Петрович А.Ю., Чубаров И.А., Сборник задач по аналитической геометрии и линейной алгебре: Учеб. пособие. – 2-е изд., перераб. - М.: Физматлит, 2001. -496с.



В 2009 году Университет стал победителем многоэтапного конкурса, в результате которого определены 12 ведущих университетов России, которым присвоена категория "Национальный исследовательский университет". Министерством образования и науки Российской Федерации была утверждена Программа развития государственного образовательного учреждения высшего профессионального образования "Санкт-Петербургский государственный университет информационных технологий, механики и оптики" на 2009-2018 годы.

КАФЕДРА ВЫСШЕЙ МАТЕМАТИКИ

Кафедра высшей математики - крупнейшая в Санкт-Петербургском национальном исследовательском университете информационных технологий, механики и оптики. С момента основания на ней работали такие выдающиеся ученые, как И.П. Натансон, В.А.Тартаковский, В.Н.Попов, И.А.Молотков, А.Г. Аленицын, В.В.Жук и другие. Научные интересы сотрудников покрывают практически все разделы математики. На кафедре сложилась мощная научная школа по математическому моделированию сложных физических систем. В последнее время активно развивается направление, связанное с нанофизикой и нанотехнологиями, квантовым компьютером и квантовыми коммуникациями. Сотрудники кафедры активно участвуют в международных научных конференциях, работают в рамках Российских и международных научных проектов. Сложилось тесное научное сотрудничество с Санкт-Петербургским государственным университетом, Петербургским отделением Математического института имени В.А.Стеклова РАН, лабораторией физикохимии наносистем Института химии силикатов РАН и другими научными центрами как в России, так и за рубежом: университетами Марселя и Тулона (Франция), Ювяскиля (Финляндия), Гумбольдтовским университетом Берлина (Германия).

Редакционно-издательский отдел
Санкт-Петербургского национального
исследовательского университета
информационных технологий,
механики и оптики
197101, Санкт-Петербург, Кронверкский пр., 49

